

中学校1年生 *単元確認テスト* 2学期⑩		立体の投影図	
組番	名前		/10

1 次の () にあてはまる言葉をかき入れなさい。(1点×2)

立体を正面から見た図を()、真上から見た図を()といい、
これらをあわせて投影図という。

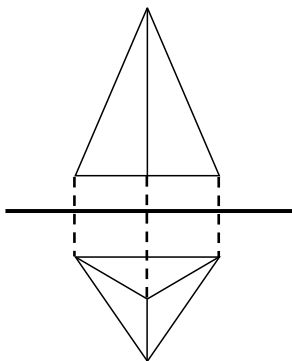
2 (1)は投影図をもとに見取図を、(2)(3)は見取図をもとに投影図をそれぞれかきなさい。

((1) 1点、(2)~(3) 2点)

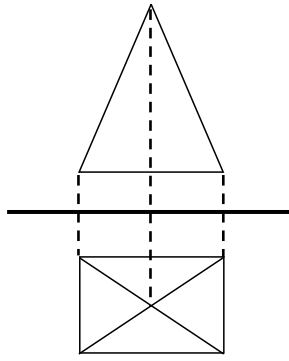
	(1)	(2)	(3)
投影図			
見取図			

3 下の(1)~(3)の投影図は、の中のどの立体を表しているか答えなさい。(1点×3)

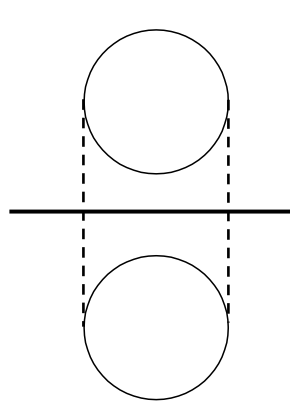
(1)



(2)



(3)



直方体
三角錐
四角錐
円柱
円錐
球