

小学校3年生*単元確認テスト*1学期⑤		長いものの長さのはかり方と表し方	
組	番	名前	/10

1 次の にあてはまる数を書きましょう。(各1点)

(1) 1 km = m (2) 1800 m = km m

2 次の(1)(2)の長さを表すたんに の中に書きましょう。(各1点)

(1) 体育かんのよこの長さ.....20

(2) となり町の小学校までの道のり.....5

3 次の(1)(2)のどいに答えましょう。(各1点)

(1) 「ものさし」より「まきじゃく」を使ってはかったほうがべんりなものをア～エの中からすべてえらび、記号に○をつけましょう。

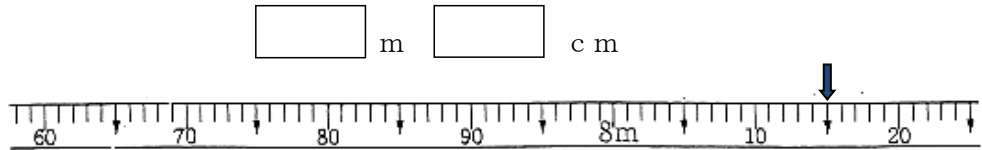
ア 算数の教科書のあつさ イ 木のまわりの長さ ウ ろうかの長さ エ 消しゴムの長さ

(2) (1) で選んだものの理由をみさきさんは、次のように考えました。() にあてはまる言葉を書きましょう。



(1) で選んだものは、曲がっているものや1 m より () ものだからです。

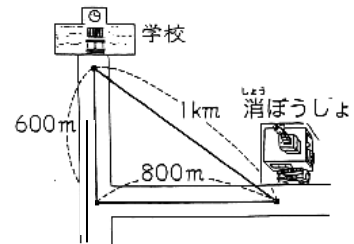
(3) ↓ のめもりが表す長さをよみましょう。



4 学校から消ぼうし^{しょう}までの道のりは何mですか。また何km何mですか。図をみて答えましょう。(全正1点)

式

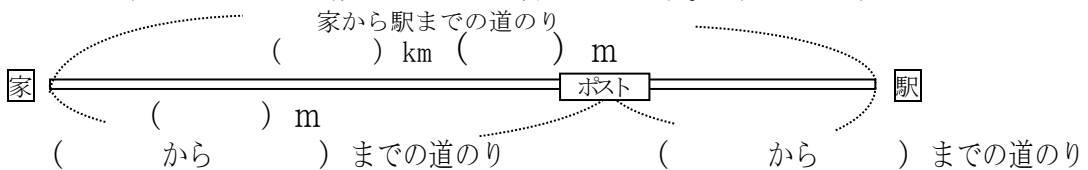
答え m
 km m



5 のりさんは、家を出発して、とちゅうでポストにはがきを入れ、駅まで行きます。のりさんの家から駅までの道のりは1 km 100 mあります。また、家からポストまでの道のりは700 mです。下の図をつかって考えましょう。

(1) () にあてはまる数やことばを書きましょう。(全正1点)

<図>



(2) ポストから駅までの道のりをもとめましょう。(全正1点)

式 答え