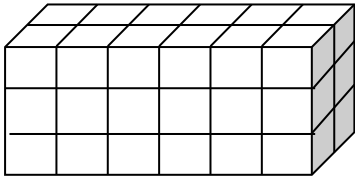


| | | | |
|-----------------------|---|-------------|-----|
| 小学校5年生 *単元確認テスト* 1学期② | | 直方体や立方体の体積① | |
| 組 | 番 | 名前 | /10 |

1 1辺が1 cm の立方体の体積を と書きます。(1点)

2 1辺が1 cm の立方体の積み木を使って、下のような直方体を作りました。体積は何 cm^3 ですか。(1点)



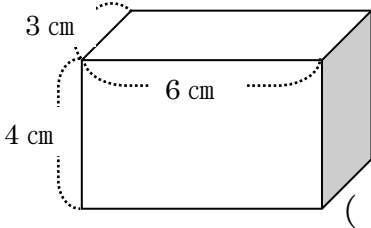
()

3 直方体の体積を求める公式を書きましょう。(全正1点)

直方体の体積 = × ×

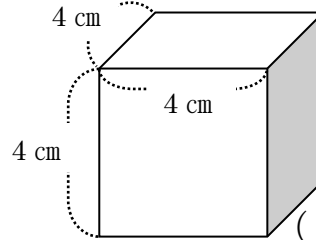
3 下の立方体や直方体の体積は何 cm^3 ですか。(1点×4)

(1)



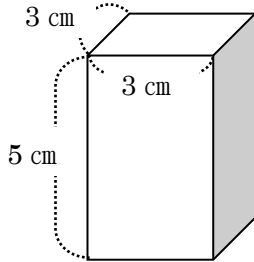
()

(2)



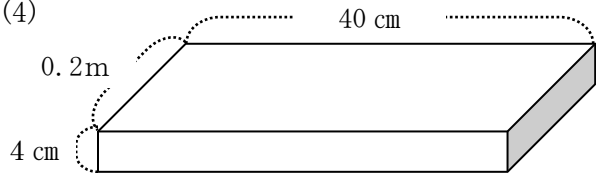
()

(3)



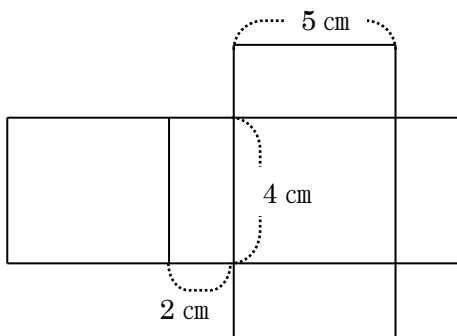
()

(4)



()

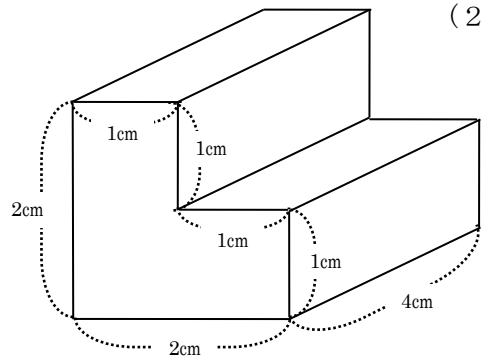
4 下の図は、直方体の展開図です。
この直方体の体積を求めましょう。(1点)



()

)

5 下のような形の体積を求めましょう。(2点)



式

答え ()

)