


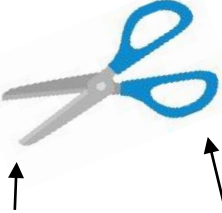


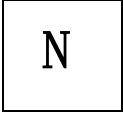


小学校3年生 *単元確認テスト⑭*			じしゃくのひみつ
組	番	名前	/10点

1 じしゃくにつくものに○を、つかないものに×を()に書きましょう。(1点×5)

(1) おり紙  ()	(2) ジュースの スチールかん  ()	(3) 竹のものさし  ()	(4) はさみ  きるぶぶん プラスチックのもち手 () ()
---	---	--	---

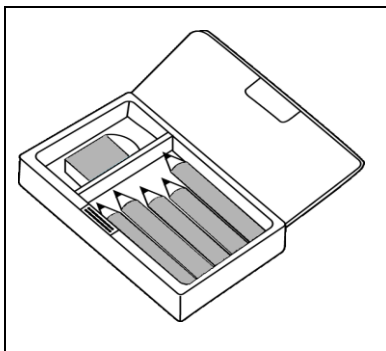
2 2つのじしゃくを近づけたとき、ひき合うものはどれですか。()に○を書きましょう。

(1点)

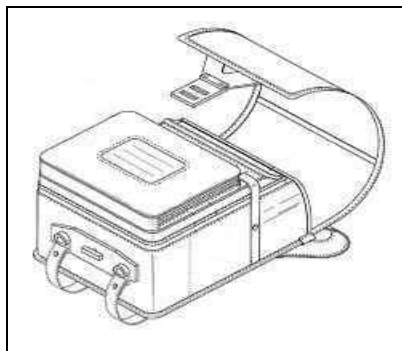
		
()	()	()

3 下の図のようなふでばこやランドセルには、じしゃくがつかわれています。じしゃくがつかわれている部分を○でかこみましょう。(1点×2)

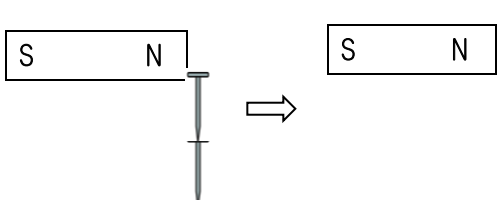
(1) ふでばこ



(2) ランドセル



4 じしゃくに2本のくぎをつけたあと、そのじしゃくをはずしましたが、2本のくぎはついたままでした。なぜですか。わけを書きましょう。(2点)



わけ