

小学校4年生		*単元確認テスト⑬*		寒さの中でも	
組	番	名前		/10点	

1 冬の生きもののおうすを調べました。次の問いに答えましょう。

(1) 正しいものに○を、まちがっているものには×を( )に書き入れましょう。(1点×4)





- ( ) カエルがたまごをうんでいる。
- ( ) 木のえだに、アゲハのさなぎが見られる。
- ( ) 冬になるとサクラもヘチマもかかれている。
- ( ) 冬のサクラは、葉はないが、えだに芽がついている。

(2) たまごで冬を過ごす動物を、下の ( ) の中から選えらび、( )に○を書き入れましょう。

(全正 1点)

( ) ツバメ ( ) アマガエル ( ) アゲハ ( ) オオカマキリ

2 オオカマキリの活動のおうすの記録です。ア～ウの記録カードについて次の問いに答えましょう。

春	ア	イ	ウ
<p>4月15日 オオカマキリ はれ 野原 15℃</p> <p>たまご からよう虫 がうまれた。</p> 	<p>オオカマキリ はれ 野原 16℃</p> <p>成虫が たまごを うんだ。</p> 	<p>オオカマキリ はれ 野原 30℃</p> <p>よう虫が 大きく成長 した。</p> 	<p>オオカマキリ くもり 野原 6℃</p> <p>たまごしか 見られない。</p> 

(1) ア～ウの記録カードを観察した順にならべたいと思います。記録されていることでくらべるとよいものを2つ選び、( )に○を書き入れましょう。(1点×2)

- ( ) 調べたものの名前 ( ) 天気 ( ) 気温
- ( ) 調べた場所 ( ) オオカマキリの活動のおうす

(2) 観察した順に記録カードがならぶように、下の( )にア～ウの記号を書き入れましょう。

(全正 1点)

春 → ( ) → ( ) → ( )

3 ある日、林の中で落ち葉をめくってみると、右の図のようにじっとしているたくさんのテントウムシが見つかりました。

次の問いに答えましょう。(1点×2)

(1) このようなテントウムシが見られる季節はいつですか。

春、夏、秋、冬の中から選びましょう。

( )

(2) テントウムシは、なぜこのように落ち葉の下ですぐすのでしょうか。

