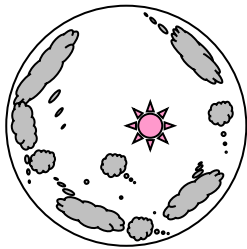


小学校5年生 *単元確認テスト⑥*		雲と天気の変化	
組 番	氏 名		/10点


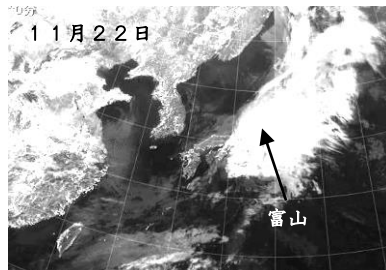

1 晴れとくもりは、空全体の雲の量で決めています。



特別なレンズで空全体を写したもの

- (1) つぎの () にあてはまる数を書きましょう。 (1点)
 ・目で見えた空全体の広さを10としたとき、雲のしめる量が、() から () のときはくもりになります。
- (2) 雲と天気の関係について、正しいものに○をつけましょう。 (1点)
 () 雲がまったくないときだけが晴れである。
 () 太陽が雲にかくれると必ず雨がふる。
 () 雲の下では必ず雨がふっている。
 () 雲の動きや量で、ある程度、天気が予想できる。

2 11月21日から23日までの気象情報から日本付近の天気について調べます。



- (1) 写真の気象情報を何というでしょう。 (1点)
- (2) 雲はどのように動いているでしょう。() にあてはまる方位(方角)を書きましょう。 (1点)
 ・雲はおよそ () から () の方角に動いている。
- (3) 11月21日、22日、23日の富山の天気は、晴れか雨のどちらでしょう。 (1点)
 11月21日 () 11月22日 () 11月23日 ()
- (4) 11月24日の富山の天気は、晴れ・くもり・雨のどれか、予報しましょう。 (1点)
 ・11月24日の天気は ()
- (5) (1)の気象情報以外に、天気の変化を知るための情報には、どのようなものがありますか。 (1点)
- (6) 「西の空に夕焼けが見られたら次の日は晴れ」といわれているわけを説明しましょう。 (1点)
- (7) 2枚の写真は、どちらも雨をふらす雲ですが、雨のふり方にちがいがあります。() のことばを○でかこみ、ふり方のとくちょうについての文章を完成させましょう。 (1点×2)



雨のふる範囲はせまく、短時間に(多量, 少量)の雨がふるときがある。



広い範囲に弱い雨が(長い, 短い)時間、ふることが多い。