

小学校3年生 *単元確認テスト⑫*			物の重さ
組	番	名前	/10点

1 重さをはかるはかりがあります。

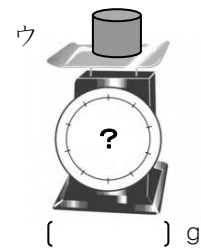


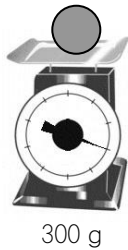
(1) はかりの正しいつかい方について、①～④の( )にあてはまることばや数を   からえらび、書きましょう。(1点×4)

0      1      ななめ      何もしかない      しずかに  
 いきおいよく      しょうめん 正面      紙をしく



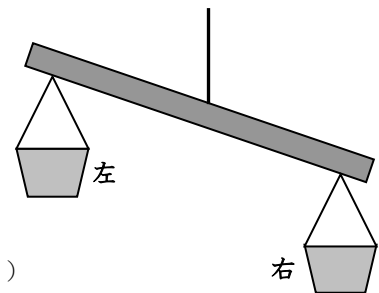

- ① はかりの台の上に( )。
- ② はりが( )をさしているか、たしかめる。
- ③ はかりたいものを( )のせる。
- ④ 目もりを( )から読む。

(2) 300gの丸いねんどを、ア、イ、ウのように形をかえて重さをはかりました。それぞれ何gでしょう。(1点×3)



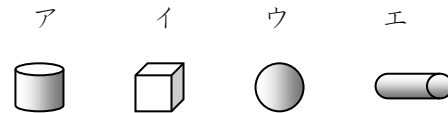
2 少しかたむいたてんびん(重さをくらべる道具: 重い方が下がる)があります。

(1) 左右どちらかの入れ物にテープや紙などをはり、かたむかないようにしたい。右と左のどちらの入れ物にはればよいでしょう。(1点)

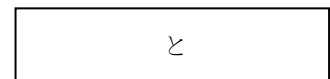


(2) ア～エの4つのものがあります。てんびんをつかって、2つの重さをくらべたら、 のことがわかりました。(1点×2)

・アとイでは、アのほうが重かった。  
 ・アとウでは、ウのほうが重かった。  
 ・アとエでは、アのほうが重かった。



① 重さの順番をきめるためには、あと、どれとどれの重さをくらべればよいでしょう。



② ア、イ、ウ、エで、いちばん重いものはどれでしょう。

