

小学校4年生		*単元確認テスト⑭*		寒くなると
組	番	名前		/10点

1 冬の生きもののおよすを調べました。次の問いに答えましょう。

(1) 正しいものに○を、まちがっているものには×を( )に書き入れましょう。(1点×4)





- ( ) カエルがたまごをうんでいる。
- ( ) 木のえだに、アゲハのさなぎが見られる。
- ( ) 冬になるとサクラもヘチマもかれている。
- ( ) 冬のサクラは、葉はないが、えだに芽がついている。

(2) たまごで冬を過ごす動物を、下の ( ) の中から選び、( ) に○を書き入れましょう。

(全正 1点)

( ) ツバメ ( ) ヒキガエル ( ) アゲハ ( ) オオカマキリ

2 オオカマキリの活動のおよすの記録です。ア～ウの記録カードについて次の問いに答えましょう。

春	ア	イ	ウ
4月15日 オオカマキリ はれ 野原 15℃ たまごからよう虫がうまれた。 	オオカマキリ はれ 野原 16℃ 成虫がたまごをうんだ。 	オオカマキリ はれ 野原 30℃ よう虫が大きく成長した。 	オオカマキリ くもり 野原 6℃ たまごしか見られない。 

(1) ア～ウの記録カードを観察した順にならべたいと思います。記録されていることでくらべるとよいものを2つ選び、( ) に○を書き入れましょう。(1点×2)

- ( ) 調べたものの名前 ( ) 天気 ( ) 気温
- ( ) 調べた場所 ( ) オオカマキリの活動のおよす

(2) 観察した順に記録カードがならぶように、下の ( ) にア～ウの記号を書き入れましょう。

(全正 1点)

春 → ( ) → ( ) → ( )

3 ある日、林の中で落ち葉をめくってみると、右の図のようにじっとしているたくさんのテントウムシが見つかりました。

次の問いに答えましょう。(1点×2)

(1) このようなテントウムシが見られる季節はいつですか。

春、夏、秋、冬の中から選びましょう。

( )



(2) テントウムシは、なぜこのように落ち葉の下ですごすのでしょうか。