

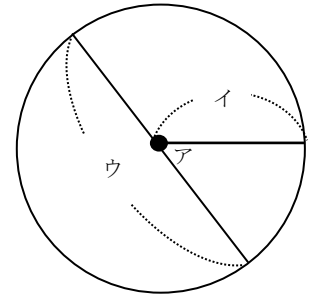
小学校3年生 *単元確認テスト* 2学期⑦		円と球	
組 番	名前		/10

1 コンパスを使って、右のような形をかきました。 次の(1)、(2)、(3)の問いに答えましょう。 (3点)

(1) アの点を何とといいますか。

(2) イの直線を何とといいますか。

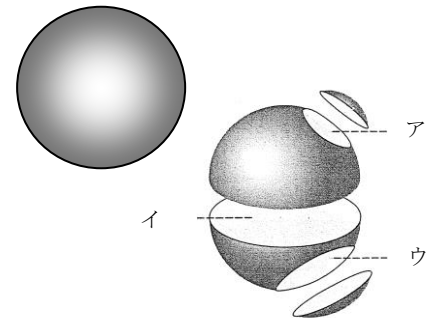
(3) ウの直線を何とといいますか。



2 ボールのようなまるい形について、次の(1)、(2)の問いに答えましょう。 (2点)


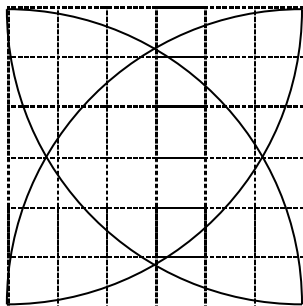
(1) このようなどこからみても円に見える形を何とといいますか。

(2) この形を切った切り口(ア、イ、ウ)はどんな形ですか。


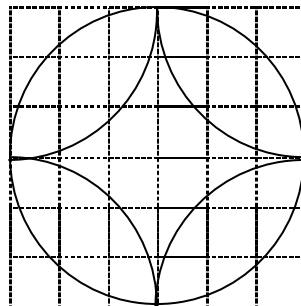


3 コンパスを使って、左のもよと同じ形を書きましょう。 (2点)

(1)



(2)



4 右下のように、はこの中にボールがぴったりと入っています。 次の(1)、(2)の問いに答えましょう。 (3点)

(1) はこの高さをはかると10cmでした。はこのたての長さは何cmになりますか。

 cm

(2) はこの横の長さは何cmになりますか。

式をつかってもとめましょう。

式

答え cm

