

小学校3年生*単元確認テスト*2学期⑧		小数①	
組	番	名前	/10

1 次の□の中の数を整数と小数に分けて記号で書きましょう。(全正1点)

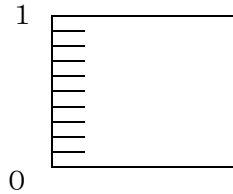
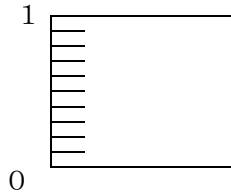
ア 5	イ 4.8	ウ 10	エ 0.3	オ 7.5
-----	-------	------	-------	-------

整数

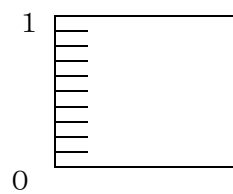
小数

2 水のかさだけ、色をぬりましょう。(2点)

(1) 1.6 L



(2) 0.8 L



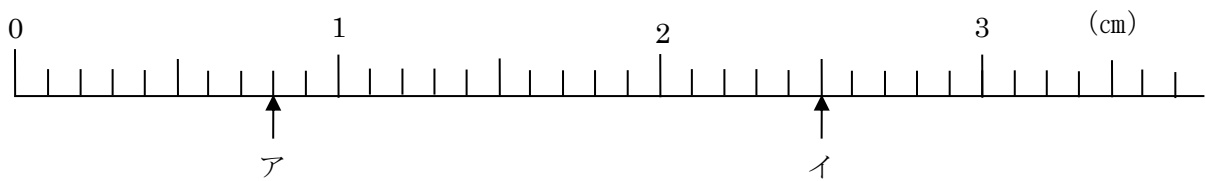
3 (1) (2) は□にあてはまる数、(3) は不等号を書きましょう。(3点)

(1) 2 L と  L で 2.5 L

(2) 120 cm =  m

(3) 4  4.1

4 数直線のア、イのめもりが表す長さは、それぞれ何cmですか。(2点)



ア

イ

5 0.5 kg のさらに、3.2 kg のバナナをのせて重さをはかりました。あわせて何kgになりますか。(2点)

式

筆算


答え