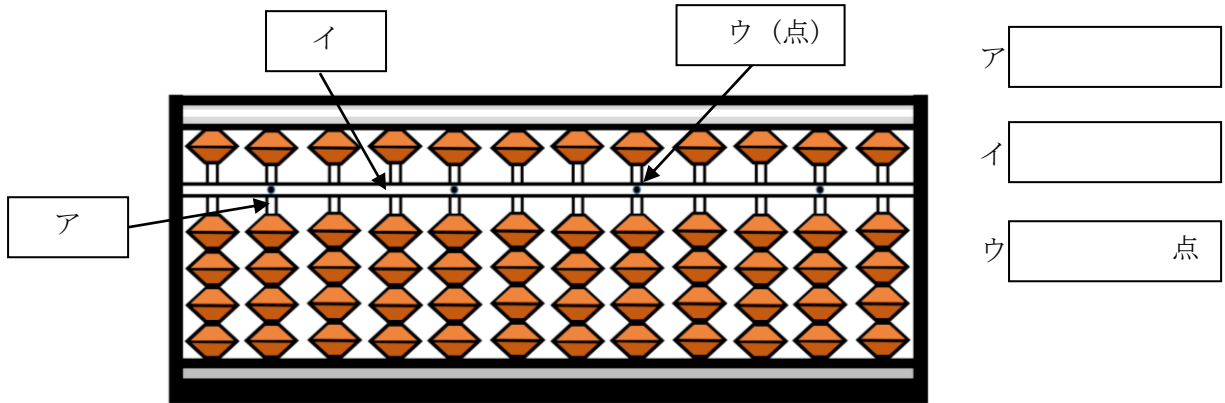


小学校3年生*単元確認テスト*3学期⑥		そろばん	
組 番	名前		/10

1 下の□にそろばんのいろいろな部分の名前を書きましょう。(3点)

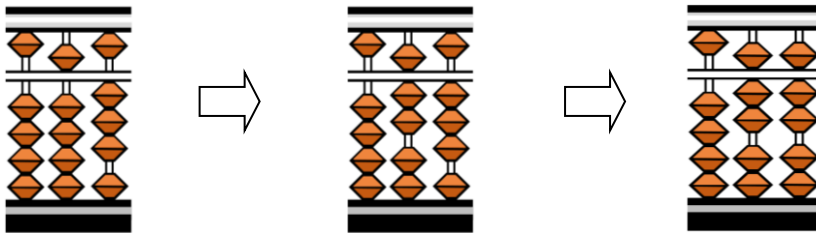


2 たし算のしかた、ひき算のしかたです。

□には五だまか一だまのどちらかを、()にはあてはまる数を書きましょう。

(7点)

(1) $53 + 24$



① 53をいれる。

十の位に五だまを
一の位に一だまを
3こ入れる。

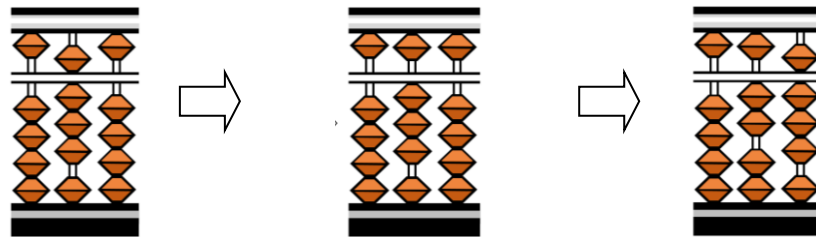
② 24の20をたす。

十の位に [] を
2こ入れる。

③ 24の4をたす。

一の位に [] を入れて、
[] を () ことる。

(2) $80 - 52$



① 80をいれる。

② 52の50をひく。

③ 52の2をひく

十の位の [] を1ことって、
一の位の [] を1こ、一だまを () こ入れる