

小学校 4 年生 * 単元確認テスト * 3 学期③		直方体と立方体	
組 番	名 前		/10

1 次の□にあてはまる言葉を書きましょう。(4点)

(1) 長方形だけでかこまれた形や、長方形と正方形で囲まれた形を といいいます。

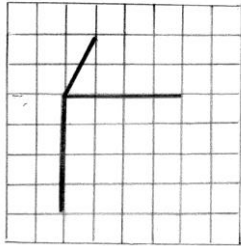
(2) 正方形だけでかこまれた形を といいいます。

(3) 直方体や立方体などを、辺にそって切り開いて、平面の上に広げた図を といいいます。

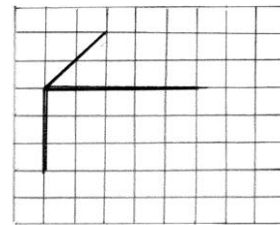
(4) 直方体や立方体などの全体の形がわかるようにかいた図を といいいます。

2 下の図の続きを書いて、見取図や展開図^{てんかいず}を完成させましょう。(4点)

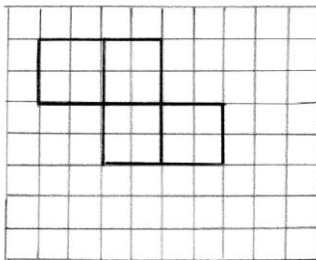
(1) 立方体の見取図



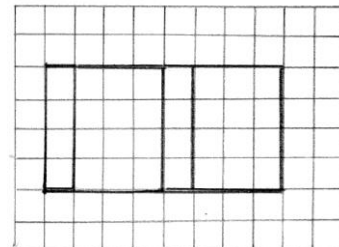
(2) 直方体の見取図



(3) 立方体の展開図



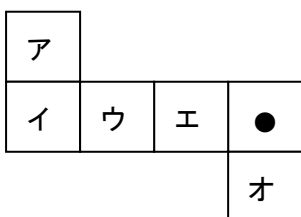
(4) 直方体の展開図



3 さいころ(立方体)の展開図です。向き合う面の目の数の和は7になります。

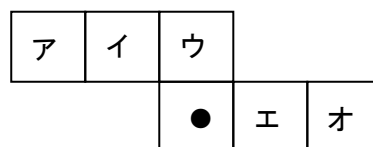
になる面は、ア~オのどの面ですか。(2点)

①



()

②



()