

小学校5年生*単元確認テスト*2学期①			図形の角	
組	番	名前		
				/10

1 次の□にあてはまる数や言葉を書きましょう。(1点×4)

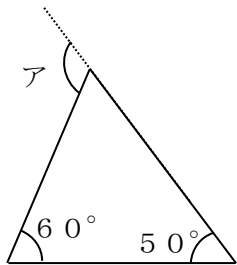
(1) 三角形の3つの角の大きさの和は、 になります。

(2) 四角形の4つの角の大きさの和は、 になります。

(3) 5本の直線で囲まれた図形を、 といいます。

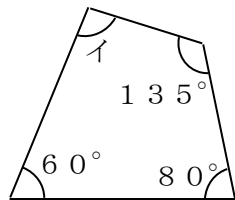
(4) 三角形、四角形、……などのように、直線だけで囲まれた図形を といいます。

2 次のア～ウの角度を計算で求めましょう。(式・答え全正 1点×4)



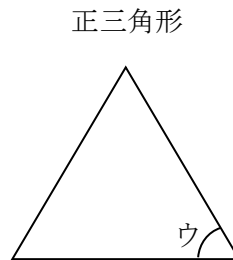
式

ア



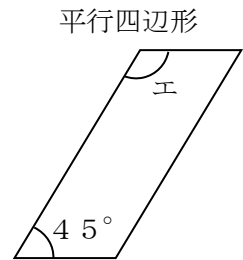
式

イ



式

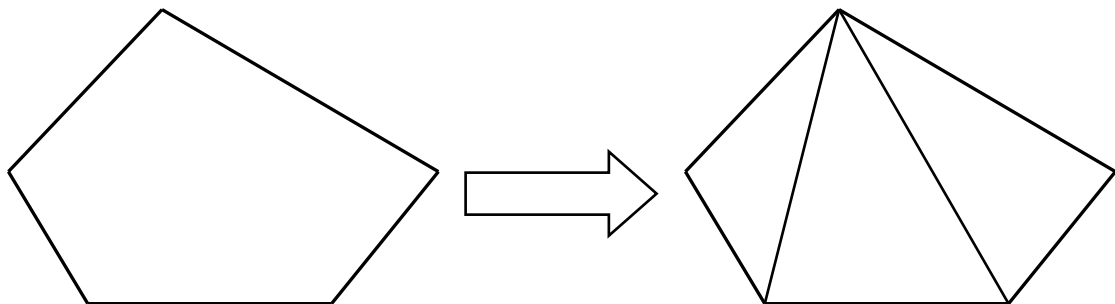
ウ



式

エ

3 五角形の5つの角の大きさの和を、図を見て求めましょう。(2点)



3つの三角形に分けられます。

式

答え