

小学校5年生*単元確認テスト*2学期⑨		四角形と三角形の面積	
組	番	名前	/10

1 次の面積を求める公式を書きましょう。(1点×3)

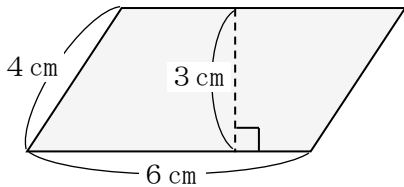
(1) 平行四辺形の面積=

(2) 三角形の面積=

(3) 台形の面積=

2 下の図形の面積を求めましょう。(式・答え全正 1点×4)

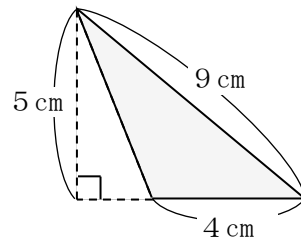
(1) 平行四辺形



式

答え

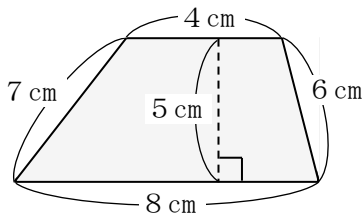
(2) 三角形



式

答え

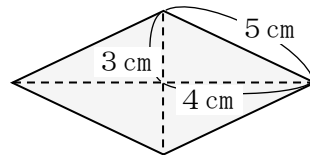
(3) 台形



式

答え

(4) ひし形



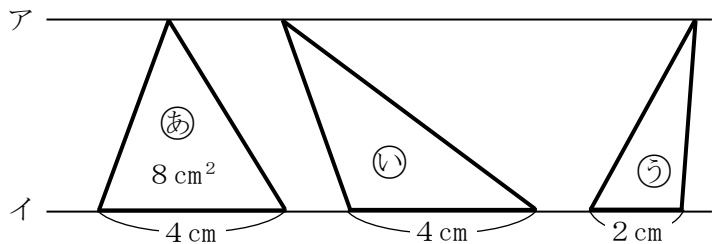
式

答え

3 右の図のアとイの直線は平行で、三角形(あ)の面積は 8 cm^2 です。(1点×3)

(1) 三角形(い)の面積は何 cm^2 ですか。

(2) 三角形(う)の面積は何 cm^2 ですか。



そのわけも書きましょう。