

小学校5年生*単元確認テスト*3学期③		角柱と円柱	
組	番	名前	/10

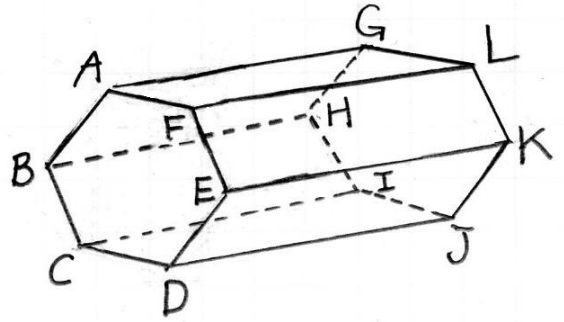
1 右のような角柱があります。(1点×4)

(1) この角柱の底面はどんな形ですか。

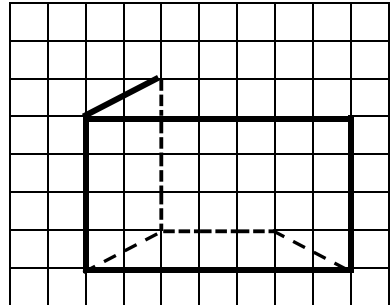
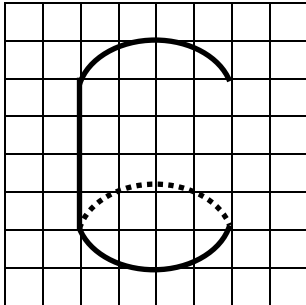
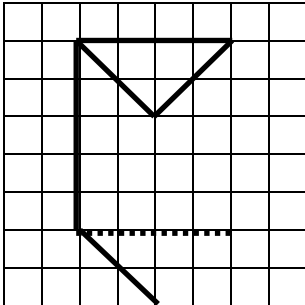
(2) この角柱はなんという角柱ですか。

(3) 面ABCDEFに平行な面はどれですか。

(4) 底面に垂直な辺を全部答えましょう。



2 次の角柱や円柱の見取図の続きをかきましょう。(1点×3)



3 右の図は、ある円柱の展開図です。方眼のマスの大きさは、たて1cm、よこ1cmです。

(1点×3)

(1) この展開図を組み立てると、高さは何cmですか。

(2) ADの長さ何cmですか。

(3) 側面積を求めましょう。

