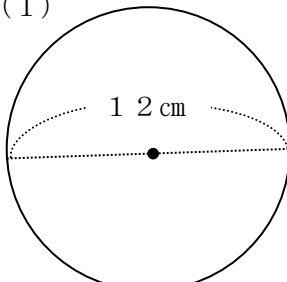


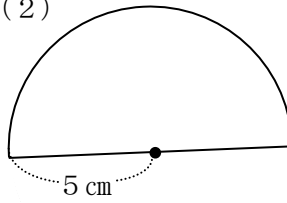
小学校6年生*単元確認テスト*2学期③		円の面積	
組番	名前		/10

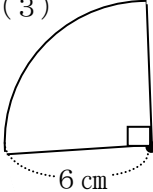
1 円の面積を求める公式を に言葉で書きましょう。(1点)

円の面積 = × ×

2 次の図形の面積とまわりの長さを求めましょう。(全正各1点)

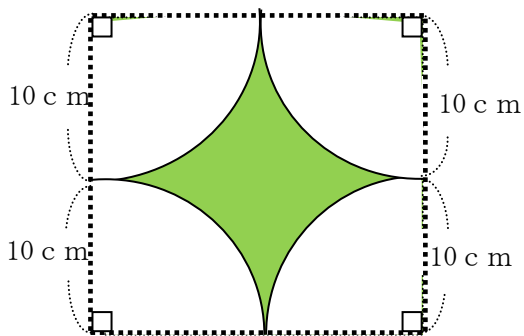
(1)  <面積>
(式)
<まわりの長さ>
(式)

(2)  <面積>
(式)
<まわりの長さ>
(式)

(3)  <面積>
(式)
<まわりの長さ>
(式)

3 色をぬった部分の面積の求め方を図や言葉などを使ってかき、計算して面積を求めましょう。

(3点)



(式)

<求め方>