


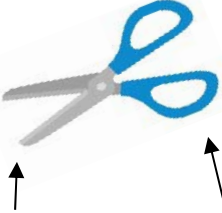


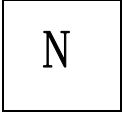


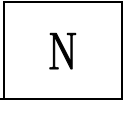
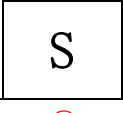
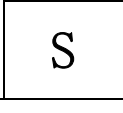
小学校3年生 *単元確認テスト⑭*			じしゃくのひみつ
組	番	名前	/10点

1 じしゃくにつくものに○を、つかないものに×を () に書きましょう。 (1点×5)

(1) おり紙  (×)	(2) ジュースの スチールかん  (○)	(3) 竹のものさし  (×)	(4) はさみ  きるぶぶん プラスチックのもち手 (○) (×)
---	---	--	---

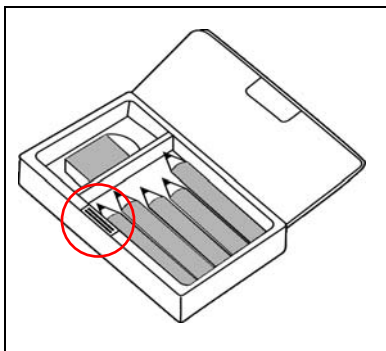
2 2つのじしゃくを近づけたとき、ひき合うものはどれですか。 () に○を書きましょう。

(1点)

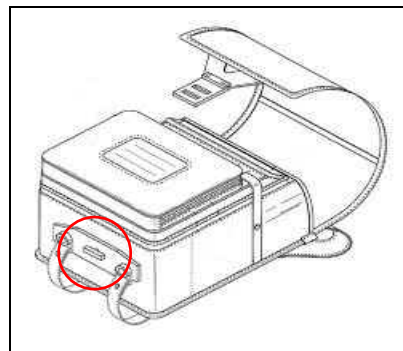
		
		
()	(○)	()

3 下の図のようなふでばこやランドセルには、じしゃくがつかわれています。じしゃくがつかわれている部分を○でかこみましょう。 (1点×2)

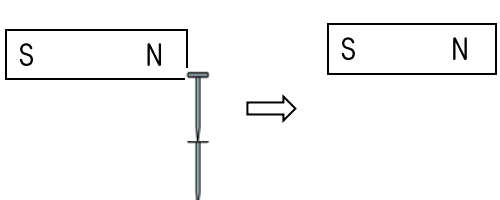

(1) ふでばこ



(2) ランドセル



4 じしゃくに2本のくぎをつけたあと、そのじしゃくをはずしましたが、2本のくぎはついたままでした。なぜですか。わけを書きましょう。 (2点)

		わけ くぎがじしゃくになったから。
---	---	----------------------

小学校3年生 *単元確認テスト⑮*			ものの重さを調べよう
組	番	名前	/10点

1 重さをはかるはかりがあります。

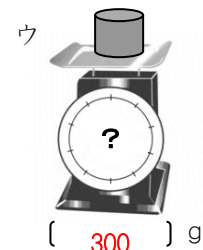


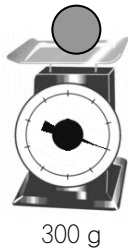
(1) はかりの正しいつかい方について、①～④の()にあてはまることばや数を からえらび、書きましょう。(1点×4)

0 ななめ 何もしかない 1 しずかに
いきおいよく しょうめん正面 紙をのせる



- ① はかりの皿の上に (紙をのせる)。
- ② はりが (0) をさしているか、たしかめる。
- ③ はかりたいものを (しずかに) のせる。
- ④ 目もりを (正面) から読む。

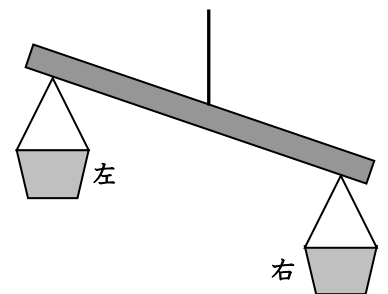
(2) 300gの丸いねんどを、ア、イ、ウのように形をかえて重さをはかりました。それぞれ何gでしょう。(1点×3)



2 少しかたむいたてんびん (重さをくらべる道具：重い方が下がる) があります。

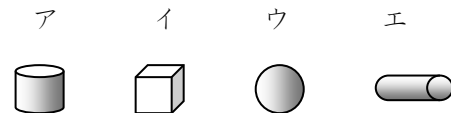
(1) 左右どちらかの入れ物にテープや紙などをはり、かたむかないようにしたい。右と左のどちらの入れ物にはればよいでしょう。(1点)

左



(2) ア～エの4つのものがあります。てんびんをつかって、2つの重さをくらべたら、 のことがわかりました。(1点×2)

・アとイでは、アのほうが重かった。
 ・アとウでは、ウのほうが重かった。
 ・アとエでは、アのほうが重かった。



両方あって正解

イ と エ

① 重さの順番をきめるためには、あと、どれとどれの重さをくらべればよいでしょう。

② ア、イ、ウ、エで、いちばん重いものはどれでしょう。

ウ